

تاریخ: ۱۴۰۰/۱۰/۱۵

آموزگار: فروغ طاعتی

به نام خدا

دبستان غیر دولتی برتران دانش

نام و نام خانوادگی:

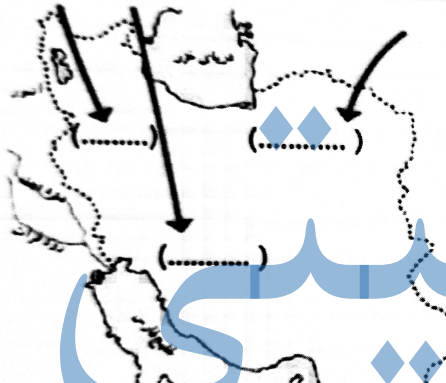
آزمون نوبت اول اجتماعی

بارم	شرح سوالات	رهب
------	------------	-----

۱	<p>صحيح و غلط بودن هريك از جملات زير را مشخص كنيد.</p> <p>اداره ی امور روستا به عهده ی بخشدار هر منطقه است.</p> <p>سرزمین میان دو رود دجله و فرات بین النهرین نامیده می شود.</p>	<p><input type="checkbox"/> ص <input type="checkbox"/> غ</p> <p><input type="checkbox"/> ص <input type="checkbox"/> غ</p>
---	--	---


۲	پایتخت ایلامی ها کدام شهر بود؟	الف : تیسفون <input type="checkbox"/> ب : شوش <input type="checkbox"/> ج : هگمتانه <input type="checkbox"/> د : اصفهان <input type="checkbox"/>
۳	اولین رهبر مادها چه نام داشت؟	الف : دیاکو <input type="checkbox"/> ب : هُوخشر <input type="checkbox"/> ج : داریوش <input type="checkbox"/> د : مهرداد <input type="checkbox"/>
۴	جنس اولین ابزارانسان ها از چه بود؟	الف : چوب <input type="checkbox"/> ب : آهن <input type="checkbox"/> ج : سنگ <input type="checkbox"/> د : استخوان <input type="checkbox"/>
۵	معلمی در کدام دسته از مشاغل قرار دارد؟	الف : تولیدی <input type="checkbox"/> ب : تجاری <input type="checkbox"/> ج : آزاد <input type="checkbox"/> د : خدماتی <input type="checkbox"/>
۶	منبع اصلی غذای انسان نخستین چه بود؟	الف : میوه <input type="checkbox"/> ب : دانه <input type="checkbox"/> ج : شکار <input type="checkbox"/> د : ریشه <input type="checkbox"/>

هریک از فلش جهت حرکت و سکونت کدام قوم آریایی را نشان می دهد در جای داده شده بنویسید.




جزوه سیپی

در موارد زیر نام جهتی را که هر یک قرار دارند بنویسید.



خانه (.....)	مدرسه (.....)
درخت (.....)	هوایما (.....)
کوه (.....)	مسجد (.....)
فیل (.....)	جاده (.....)

نام هفت ویژگی تمدن ها را در جای داده شده بنویسید.



..... (۱) (۲)
..... (۳) (۴)
..... (۵) (۶)
..... (۷)	

جای خالی را با کلمات مناسب پر کنید.

۱۰. مهم ترین وسیله ی یادگیری جغرافیا نام دارد.
 وظیفه ی شهرداری زیبانگه داشتن شهر و حفظ است.
 قبل از پیدایش پول داد و ستد به صورت انجام می شد.
 امام جماعت در صف نماز جماعت جلوتر از همه در قرار می گیرد.
 فرمانروایان برای برقراری نظم در سرزمین خود وضع کردند.
 به امکاناتی که برای استفاده ی عموم مردم ساخته شده است، گفته می شود.

۱۱. قطب نما چیست ؟

۱۲. علل پیدایش خط چه بود؟

۱۳. چرا آثار باستانی با ارزش هستند؟

۱۴. راهنمای نقشه چه کمکی به ما می کند؟

۱۵. چرا آریایی ها به ایران مهاجرت کردند؟

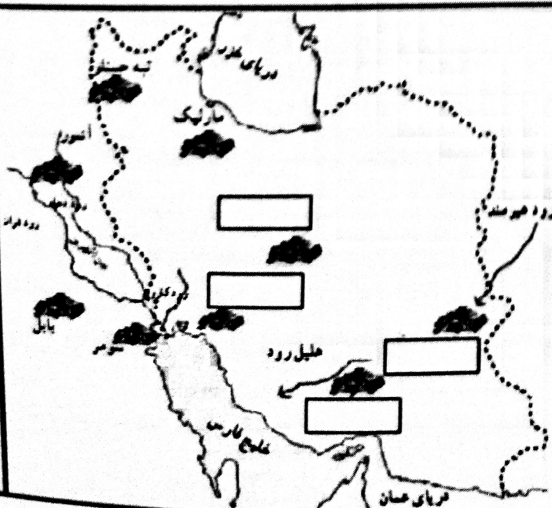
۱۶. علل شکست مادها از آشوری ها چه بود؟

۱۸. چرا کشف آتش زندگی انسان ها را تغییر داد؟
















۱۹. چرا نخستین روستاها در کنار رودها پدید آمدند؟

۲۰. کشاورزی چه اهمیتی در زندگی انسان های گذشته داشت؟

در مستطیل های خالی نام چهار تمدن ایران قدیم را بنویسید.



شرح سوالات

ردیف	سوال	پاسخ																				
۲۲	در مسجد چه کارهایی انجام می شود؟																					
۲۳	گنج نامه با کدام خط وبه چه زبان هایی نوشته شده است ؟																					
۲۴	جدول بودجه را تعریف کنید.																					
۲۵	با استفاده از خط تصویری کامل کنید.	<table border="1"> <tr> <td>زبورآلات</td> <td></td> <td>باران</td> <td>کودک</td> </tr> <tr> <td>لباس</td> <td></td> <td>داس کشاورزی</td> <td>گار</td> </tr> <tr> <td>خورنید</td> <td></td> <td>رودخانه</td> <td>مگرم</td> </tr> <tr> <td>ماه</td> <td></td> <td>درست کردن</td> <td>نیزه</td> </tr> <tr> <td>ماهی</td> <td></td> <td>رفتن</td> <td>اب</td> </tr> </table>	زبورآلات		باران	کودک	لباس		داس کشاورزی	گار	خورنید		رودخانه	مگرم	ماه		درست کردن	نیزه	ماهی		رفتن	اب
زبورآلات		باران	کودک																			
لباس		داس کشاورزی	گار																			
خورنید		رودخانه	مگرم																			
ماه		درست کردن	نیزه																			
ماهی		رفتن	اب																			
۲۶	استان چیست ؟																					
۲۷	دانش جغرافیا چه کمکی به ما می کند؟																					
۲۸	پیامبر اسلام در مورد رفتار با همسایه ها چه فرموده اند؟																					
۲۹	اهلی کردن حیوانات چه فوایدی برای انسان های نخستین داشت؟																					
۳۰	دومرداز تفاوت های شهر و روستا را بنویسید.																					

جزوه سیپی